


**«УТВЕРЖДАЮ»**  
Руководитель Федеральной  
службы по надзору в сфере  
образования и науки

  
В.А. Болотов  
« 02 » мая 2007 г.

**«СОГЛАСОВАНО»**  
Председатель Научно-  
методического совета ФИПИ  
по математике

  
Г.Г. Канторович  
« 29 » апреля 2007 г.

**Единый государственный экзамен по МАТЕМАТИКЕ**

**Демонстрационный вариант КИМ 2008 г.**

подготовлен Федеральным государственным научным учреждением

**«ФЕДЕРАЛЬНЫЙ ИНСТИТУТ ПЕДАГОГИЧЕСКИХ ИЗМЕРЕНИЙ»**

Директор ФИПИ



А.Г.Ершов

## Единый государственный экзамен по МАТЕМАТИКЕ

### Пояснения к демонстрационному варианту

При ознакомлении с Демонстрационным вариантом 2008 года следует иметь в виду, что задания, включенные в демонстрационный вариант, не отражают всех вопросов содержания, которые будут проверяться с помощью вариантов КИМ в 2008 году. Полный перечень вопросов, которые могут контролироваться на едином государственном экзамене 2008 года, приведен в кодификаторе, помещенном на сайтах [www.ege.edu.ru](http://www.ege.edu.ru) и [www.fipi.ru](http://www.fipi.ru).

Назначение демонстрационного варианта заключается в том, чтобы дать возможность любому участнику ЕГЭ и широкой общественности составить представление о структуре будущих КИМ, числе, форме, уровне сложности заданий: базовом, повышенном и высоком. Приведенные критерии оценки выполнения заданий с развернутым ответом (тип «С»), включенные в этот вариант, позволят составить представление о требованиях к полноте и правильности записи развернутого ответа.

Эти сведения позволят выпускникам выработать стратегию подготовки и сдачи ЕГЭ в соответствии с целями, которые они ставят перед собой.

Для правильной распечатки файла демонстрационного варианта по математике необходимо установить на компьютере программное обеспечение MathType версии не ниже 5.0 (см. Примечание в конце файла).

**Единый государственный экзамен по МАТЕМАТИКЕ****Демонстрационный вариант 2008 г.****Инструкция по выполнению работы**

На выполнение экзаменационной работы по математике дается 4 часа (240 мин). Работа состоит из трех частей и содержит 26 заданий.

Часть 1 содержит 13 заданий (А1 – А10 и В1 – В3) обязательного уровня по материалу курса «Алгебра и начала анализа» 10-11 классов. К каждому заданию А1 – А10 приведены 4 варианта ответа, из которых только один верный. При выполнении этих заданий надо указать номер верного ответа. К заданиям В1 – В3 надо дать краткий ответ.

Часть 2 содержит 10 более сложных заданий (В4 – В11, С1, С2) по материалу курса «Алгебра и начала анализа» 10-11 классов, а также различных разделов курсов алгебры и геометрии основной и средней школы. К заданиям В4 – В11 надо дать краткий ответ, к заданиям С1 и С2 – записать решение.

Часть 3 содержит 3 самых сложных задания, два – алгебраических (С3, С5) и одно – геометрическое (С4). При их выполнении надо записать обоснованное решение.

**За выполнение работы выставляются две оценки: аттестационная отметка и тестовый балл. Аттестационная отметка за усвоение курса алгебры и начал анализа 10-11 классов выставляется по пятибалльной шкале. При ее выставлении не учитывается выполнение четырёх заданий (В9, В10, В11, С4). В тексте работы номера этих заданий отмечены звездочкой.**

**Тестовый балл выставляется по 100-балльной шкале на основе первичных баллов, полученных за выполнение всех заданий работы.**

Советуем для экономии времени пропускать задание, которое не удастся выполнить сразу, и переходить к следующему. К выполнению пропущенных заданий можно вернуться, если у вас останется время.

**Желаем успеха!**

**ЧАСТЬ 1**

*При выполнении заданий А1 – А10 в бланке ответов № 1 под номером выполняемого задания поставьте знак "×" в клеточке, номер которой соответствует номеру выбранного вами ответа.*

**А1** Выполните действия  $6c^{\frac{3}{7}} + 4\left(c^{\frac{1}{7}}\right)^3$ .

1)  $70c^{\frac{3}{7}}$

2)  $70c^{\frac{6}{7}}$

3)  $10c^{\frac{6}{7}}$

4)  $10c^{\frac{3}{7}}$

**А2** Найдите значение выражения  $4 \cdot 3^{\log_3 5}$ .

1)  $\log_3 20$

2) 625

3)  $12 \log_3 5$

4) 20

**А3** Вычислите:  $\frac{\sqrt[3]{189}}{3\sqrt[3]{7}}$ .

1) 1

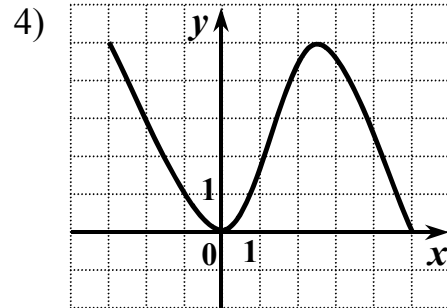
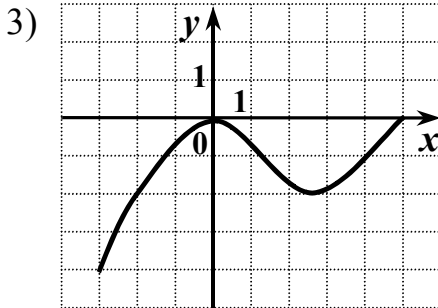
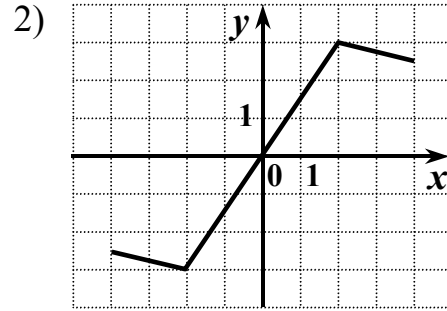
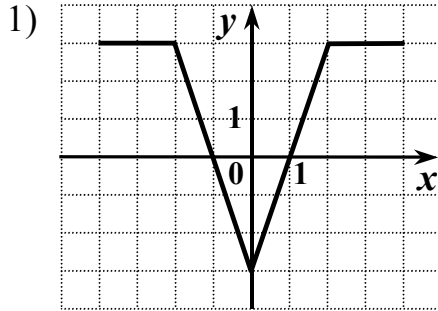
2)  $\frac{1}{3}$

3) 9

4) 27

**A4**

На одном из рисунков изображен график чётной функции.  
Укажите этот рисунок.

**A5**

Найдите производную функции  $y = x^6 - 4 \sin x$ .

1)  $y' = 6x^5 + 4 \cos x$

2)  $y' = 6x^5 - 4 \cos x$

3)  $y' = \frac{x^7}{7} + 4 \cos x$

4)  $y' = x^5 - 4 \cos x$

**A6**

Найдите множество значений функции  $y = 1,5 + \log_{2,5} x$ .

1)  $(-\infty; +\infty)$

2)  $(0; +\infty)$

3)  $(1,5; +\infty)$

4)  $(-\infty; 1,5)$

**A7**Решите уравнение  $\cos 2x = 1$ .

- 1)  $\frac{\pi}{4} + \pi n, n \in Z$
- 2)  $\pi n, n \in Z$
- 3)  $\frac{\pi n}{2}, n \in Z$
- 4)  $\frac{\pi}{4} + \frac{\pi n}{2}, n \in Z$

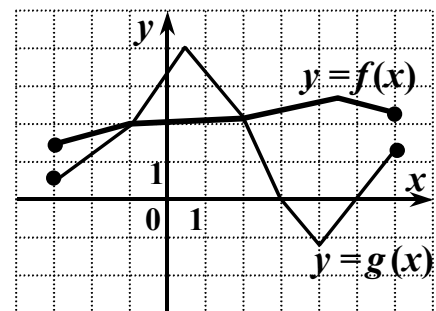
**A8**Решите неравенство  $\log_{\frac{1}{7}}(x+3) > -1$ .

- 1)  $(-\infty; 7)$
- 2)  $(-\infty; 4)$
- 3)  $(-3; 4)$
- 4)  $(-3; 7)$

**A9**

На рисунке изображены графики функций  $y = f(x)$  и  $y = g(x)$ , заданных на промежутке  $[-3; 6]$ . Укажите те значения  $x$ , для которых выполняется неравенство  $f(x) \geq g(x)$ .

- 1)  $[-1; 2]$
- 2)  $[-3; 3] \cup [5; 6]$
- 3)  $[-3; 2]$
- 4)  $[-3; -1] \cup [2; 6]$



**A10** Найдите область определения функции  $y = \sqrt{\left(\frac{1}{3}\right)^{5-4x} - \frac{1}{27}}$ .

- 1)  $(0,5; +\infty)$       2)  $(-\infty; 0,5]$       3)  $[0,5; +\infty)$       4)  $[2; +\infty)$

*Ответом на задания В1 – В11 должно быть некоторое целое число или число, записанное в виде десятичной дроби. Это число надо записать в бланк ответов № 1 справа от номера выполняемого задания, начиная с первой клеточки. Каждую цифру, знак минус отрицательного числа и запятую в записи десятичной дроби пишете в отдельной клеточке в соответствии с приведенными в бланке образцами. Единицы измерений писать не нужно.*

**B1** Найдите значение выражения  $3 \sin^2 \alpha - 7 \cos^2 \alpha$ , если  $\cos \alpha = -0,1$ .

**B2** Решите уравнение  $7^{x+1} - 5 \cdot 7^x = 98$ .

**B3** Решите уравнение  $\sqrt{2x^2 - x - 6} = -x$ .

## ЧАСТЬ 2

**B4** Вычислите значение выражения  $\log_2 \sin \frac{\pi}{12} + \log_2 \sin \frac{\pi}{6} + \log_2 \sin \frac{5\pi}{12}$ .

**B5** Прямая, проходящая через начало координат, является касательной к графику функции  $y = f(x)$  в точке  $A(-7; 14)$ . Найдите  $f'(-7)$ .

**B6** Найдите количество целочисленных решений неравенства  $6 - 5x - x^2 \geq 0$ , удовлетворяющих условию  $1 + \operatorname{tg}^2 \frac{\pi x}{4} > 0$ .

**B7**

Решите уравнение  $25x^2 - 20x + 6 = \left(\sqrt{2} - \cos\frac{5\pi x}{4}\right)\left(\sqrt{2} + \cos\frac{5\pi x}{4}\right)$ . (Если уравнение имеет более одного корня, то в бланке ответов запишите сумму всех его корней).

**B8**

Функция  $y = f(x)$  определена на всей числовой прямой и является четной периодической функцией с периодом, равным 6. На отрезке  $[0;3]$  функция задана формулой  $f(x) = 2 + 2x - x^2$ . Определите количество нулей этой функции на отрезке  $[-5;4]$ .

**\*B9**

В комиссионном магазине цена товара, выставленного на продажу, ежемесячно уменьшается на одно и то же число процентов от предыдущей цены. Определите, на сколько процентов каждый месяц уменьшалась цена магнитофона, если, выставленный на продажу за 4000 рублей, после двух снижений он был продан за 2250 рублей.

**\*B10**

Основание прямой треугольной призмы  $ABCA_1B_1C_1$  – правильный треугольник  $ABC$ , сторона которого равна  $8\sqrt{3}$ . На ребре  $BB_1$  отмечена точка  $P$  так, что  $BP : PB_1 = 3 : 5$ . Найдите тангенс угла между плоскостями  $ABC$  и  $ACP$ , если расстояние между прямыми  $BC$  и  $A_1C_1$  равно 16.

**\*B11**

Сторона правильного шестиугольника  $ABCDEF$  равна  $32\sqrt{3}$ . Найдите радиус окружности, вписанной в треугольник  $MPK$ , если точки  $M$ ,  $P$  и  $K$  – середины сторон  $AB$ ,  $CD$ ,  $EF$  соответственно.



Для записи ответов на задания C1 и C2 используйте бланк ответов №2. Запишите сначала номер выполняемого задания, а затем решение.

**C1**

Найдите наибольшее значение функции

$$f(x) = \left| \sqrt{1-x^2} - 2 \right| + \sqrt{1-x^2} + x^3 - 3x^2.$$

**C2**Решите уравнение  $\log_{3-4x^2} (9-16x^4) = 2 + \frac{1}{\log_2 (3-4x^2)}$ .

### ЧАСТЬ 3

Для записи ответов на задания (C3 – C5) используйте бланк ответов №2. Запишите сначала номер выполняемого задания, а затем обоснованное решение.

**C3**Найдите все значения  $a$ , для которых при каждом  $x$  из промежутка  $(-3; -1]$  значение выражения  $x^4 - 8x^2 - 2$  не равно значению выражения  $ax^2$ .**\*C4**

Отрезок PN – диаметр сферы. Точки M, L лежат на сфере так, что объем пирамиды PNML наибольший. Найдите синус угла между прямой NT и плоскостью PMN, если T – середина ребра ML.

**C5**Решите уравнение  $f(g(x)) + g(3 + f(x)) = 30$ , если известно, что

$$f(x) = 0,5x^4 - 4x + 5 \text{ и } g(x) = \begin{cases} 25, & x \geq 4 \\ 2^x + \frac{9}{5-x}, & x < 4 \end{cases}.$$

**Ответы к заданиям демонстрационного варианта по математике.***Ответы к заданиям с выбором ответа*

№ задания	Ответ	№ задания	Ответ
A1	4	A6	1
A2	4	A7	2
A3	1	A8	3
A4	1	A9	4
A5	2	A10	3

*Ответы к заданиям с кратким ответом*

№ задания	Ответ
B1	2,9
B2	2
B3	-2
B4	-3
B5	-2
B6	6
B7	0,4
B8	4
B9	25
B10	0,5
B11	24

*Ответы к заданиям с развернутым ответом*

№ задания	Ответ
C1	2
C2	$\pm 0,5$
C3	$(-\infty; -9) \cup \left[ \frac{7}{9}; +\infty \right)$
C4	$\frac{1}{\sqrt{6}}$
C5	-1

## КРИТЕРИИ ПРОВЕРКИ И ОЦЕНКИ ВЫПОЛНЕНИЯ ЗАДАНИЙ С РАЗВЕРНУТЫМ ОТВЕТОМ

**C1**

Найдите наибольшее значение функции

$$f(x) = \left| \sqrt{1-x^2} - 2 \right| + \sqrt{1-x^2} + x^3 - 3x^2.$$

**Решение:**1) Функция  $f$  определена только при  $-1 \leq x \leq 1$ . При этих значениях  $x$  $\sqrt{1-x^2} \leq 1$ , и поэтому  $\sqrt{1-x^2} - 2 < 0$ . Следовательно,

$$f(x) = \left| \sqrt{1-x^2} - 2 \right| + \sqrt{1-x^2} + x^3 - 3x^2 = x^3 - 3x^2 + 2.$$

2) Найдем наибольшее значение функции  $f(x) = x^3 - 3x^2 + 2$  на отрезке

$$-1 \leq x \leq 1. f'(x) = 3x^2 - 6x; f'(x) = 0 \Leftrightarrow 3x^2 - 6x = 0 \Leftrightarrow \begin{cases} x = 0; \\ x = 2. \end{cases} \text{ Но } x = 2$$

не лежит на отрезке  $-1 \leq x \leq 1$ . Сравним числа  $f(-1) = -2$ ,  $f(0) = 2$  и  $f(1) = 0$ . Наибольшее из них 2. Значит,  $\max_{-1 \leq x \leq 1} f(x) = 2$ .

**Ответ:** 2.

Баллы	Критерии оценки выполнения задания C1
2	Приведена верная последовательность всех шагов решения: 1) найдена область определения функции и упрощена формула, задающая функцию; 2) найдено наибольшее значение функции. Все преобразования и вычисления выполнены верно. Получен верный ответ.
1	Приведена верная последовательность всех шагов решения. Допущены описка и/или вычислительная ошибка в шаге 2), не влияющие на дальнейший ход решения. В результате этой описки или ошибки может быть получен неверный ответ.
0	Все случаи решения, которые не соответствуют вышеуказанным критериям выставления оценок в 1 и 2 балла.

**C2**

Решите уравнение  $\log_{3-4x^2} (9-16x^4) = 2 + \frac{1}{\log_2 (3-4x^2)}$ .

**Решение:**

$$1) \log_{3-4x^2} (9-16x^4) = 2 + \frac{1}{\log_2 (3-4x^2)} \Leftrightarrow \begin{cases} 1 + \log_{3-4x^2} (3+4x^2) = 2 + \log_{3-4x^2} 2 \\ 3-4x^2 > 0 \\ 3-4x^2 \neq 1 \end{cases}$$

$$2) \begin{cases} \log_{3-4x^2} \frac{3+4x^2}{2} = 1 \\ |x| < \frac{\sqrt{3}}{2} \\ |x| \neq \frac{\sqrt{2}}{2} \end{cases} \Leftrightarrow \begin{cases} 3+4x^2 = 2(3-4x^2) \\ |x| < \frac{\sqrt{3}}{2} \\ |x| \neq \frac{\sqrt{2}}{2} \end{cases} \Leftrightarrow \begin{cases} |x| = \frac{1}{2} \\ |x| < \frac{\sqrt{3}}{2} \\ |x| \neq \frac{\sqrt{2}}{2} \end{cases} \Leftrightarrow x = \pm \frac{1}{2}.$$

**Ответ:**  $\pm \frac{1}{2}$

Баллы	Критерии оценки выполнения задания C2
<b>2</b>	Приведена верная последовательность всех шагов решения: 1) уравнение сведено к равносильной ему системе, состоящей из уравнения и двух неравенств; 2) решена полученная система. Все преобразования и вычисления выполнены верно. Получен верный ответ.
<b>1</b>	Приведена верная последовательность всех шагов решения. Допущена вычислительная ошибка или описка в шаге 2), не влияющие на правильность дальнейшего хода решения. В результате этой ошибки или описки может быть получен неверный ответ.
<b>0</b>	Все случаи решения, которые не соответствуют вышеуказанным критериям выставления оценок в 1 и 2 балла.

**С3**

Найдите все значения  $a$ , для которых при каждом  $x$  из промежутка  $(-3; -1]$  значение выражения  $x^4 - 8x^2 - 2$  не равно значению выражения  $ax^2$ .

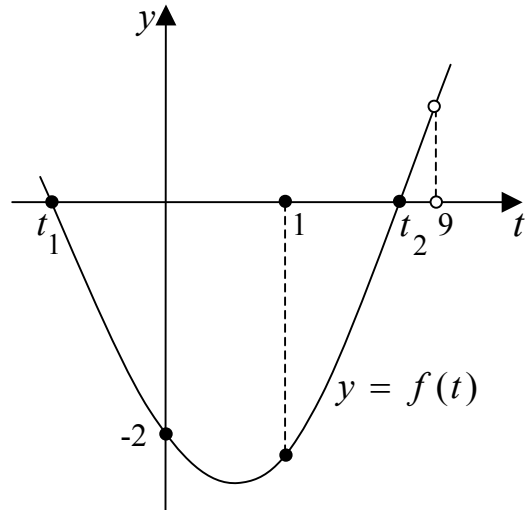
**Решение:**

1) Значения указанных в задаче выражений не равны друг другу тогда и только тогда, когда выполнено условие

$$x^4 - 8x^2 - 2 \neq ax^2 \Leftrightarrow f(t) \neq 0, \quad \text{где } t = x^2 \text{ и } f(t) = t^2 - (a + 8)t - 2.$$

Следовательно, в задаче требуется, чтобы уравнение  $f(t) = 0$  не имело корней на промежутке  $[(-1)^2; (-3)^2) = [1; 9)$ .

2) График функции  $y = f(t)$  (относительно переменной  $t \in \mathbb{R}$ ) есть парабола, изображенная на рисунке: ее ветви направлены вверх, а точка пересечения с осью ординат лежит ниже оси абсцисс (так как  $f(0) = -2$ ). Поэтому квадратный трехчлен  $f(t)$  имеет два корня  $t_1 < 0$  и  $t_2 > 0$ . Если  $0 < t < t_2$ , то



$f(t) < 0$ , а если  $t > t_2$ , то  $f(t) > 0$ , поэтому уравнение  $f(t) = 0$  имеет корень на

промежутке  $[1; 9)$  тогда и только тогда, когда  $1 \leq t_2 < 9 \Leftrightarrow \begin{cases} f(1) \leq 0 \\ f(9) > 0 \end{cases}$ .

3) Решим полученную систему:  $\begin{cases} 1^2 - (a + 8) - 2 \leq 0 \\ 9^2 - 9(a + 8) - 2 > 0 \end{cases} \Leftrightarrow -9 \leq a < \frac{7}{9}$ .

Итак, уравнение  $f(t) = 0$  не имеет корней на промежутке  $[1; 9)$  для всех остальных значений  $a$ , т. е. тогда и только тогда, когда  $a < -9$  или  $a \geq \frac{7}{9}$ .

**Ответ:**  $a < -9, a \geq \frac{7}{9}$ .

*Замечание:* в работах выпускников в шаге 2) могут отсутствовать словесные описания, а корни квадратного трехчлена  $f(t)$  могут быть вычислены.

Баллы	Критерии оценки выполнения задания С3
4	Приведена верная последовательность всех шагов решения: 1) задача сведена к исследованию корней квадратного уравнения $f(t) = 0$ на соответствующем промежутке; 2) показано (возможно, только с помощью рисунка), что квадратный трехчлен $f(t)$ имеет два корня разного знака, и получены два условия на параметр $a$ , система которых

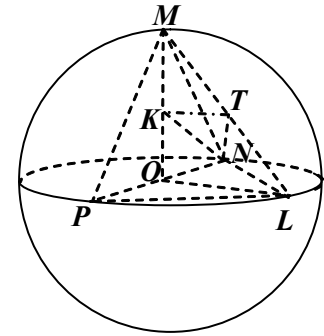
	<p>необходима и достаточна для того, чтобы квадратное уравнение <math>f(t) = 0</math> имело корень на соответствующем промежутке;</p> <p>3) полученные неравенства решены и найдены оба множества, составляющие искомое множество значений параметра <math>a</math>.</p> <p>Все преобразования и вычисления верны. Получен верный ответ.</p>
3	<p>Приведена верная последовательность всех шагов решения.</p> <p>Допускается, что не показано (ни словесно, ни с помощью рисунка), что квадратный трехчлен <math>f(t)</math> имеет два корня разного знака.</p> <p>В шаге 2, возможно, содержатся неточности, состоящие в том, что строгие (нестрогие) неравенства заменены нестрогими (строгими).</p> <p>Ответ получен и либо верен, либо отличается от верного из-за допущенных в шаге 2 неточностей.</p>
2	<p>Приведена верная последовательность всех шагов решения.</p> <p>В шаге 2 получены неравенства на параметр <math>a</math>, система которых необходима и достаточна для того, чтобы квадратное уравнение <math>f(t) = 0</math> имело корень на соответствующем промежутке.</p> <p>Возможно, что при этом допущены неточности, состоящие в том, что строгие (нестрогие) неравенства заменены нестрогими (строгими).</p> <p>В шаге 3 найдено (возможно, неверно из-за допущенных в шаге 2 неточностей):</p> <ul style="list-style-type: none"> <li>• либо множество значений параметра <math>a</math>, при которых квадратное уравнение <math>f(t) = 0</math> имеет корень на соответствующем промежутке,</li> <li>• либо хотя бы одно из двух множеств, составляющих искомое множество значений параметра <math>a</math>.</li> </ul>
1	<p>Приведены шаги 1 и 2 решения, а шаг 3 отсутствует, содержит ошибки или не доведен до конца.</p> <p>В шаге 2 получено хотя бы одно из неравенств на параметр <math>a</math>, необходимое для того, чтобы квадратное уравнение <math>f(t) = 0</math> имело корень на соответствующем промежутке, при этом в нем, возможно, строгое (нестрогое) неравенство заменено нестрогим (строгим).</p>
0	<p>Все случаи решения, которые не соответствуют вышеуказанным критериям выставления оценок в 1 – 4 балла.</p>

**\*С4**

Отрезок  $PN$  – диаметр сферы. Точки  $M, L$  лежат на сфере так, что объем пирамиды  $PNML$  наибольший. Найдите синус угла между прямой  $NT$  и плоскостью  $PMN$ , если  $T$  – середина ребра  $ML$ .

**Решение**

1) Пусть  $O$  – центр сферы, а  $R$  – ее радиус. Тогда  $PN = 2R$  как диаметр сферы. Поскольку точки  $M$  и  $L$  лежат на сфере, то  $OP = OL = ON = OM = R$ . Сечения сферы плоскостями  $PLN$  и  $PMN$  – окружности радиуса  $R$ , описанные вокруг треугольников  $PLN$  и  $PMN$ , причем  $\angle PMN = \angle PLN = 90^\circ$  как вписанные углы, опирающиеся на диаметр  $PN$ .



2) Пусть  $H$  – высота пирамиды  $PNML$ , опущенная из вершины  $M$ , и  $h$  – высота треугольника  $PLN$ , проведенная к стороне  $PN$ . Поскольку точка  $M$  лежит на сфере, а плоскость  $PLN$  содержит центр сферы, то  $H \leq R$ , причем  $H = R$ , если  $MO \perp PLN$ . Аналогично, поскольку точка  $L$  лежит на сфере, то  $h \leq R$ , причем  $h = R$ , если  $LO \perp PN$ . Отсюда для объема пирамиды  $PNML$  имеем

$$V_{PNML} = \frac{1}{3} S_{PNL} \cdot H = \frac{1}{3} \cdot \frac{1}{2} \cdot PN \cdot h \cdot H \leq \frac{1}{6} \cdot 2R \cdot R \cdot R = \frac{R^3}{3}. \text{ При этом}$$

$V_{PNML} = \frac{R^3}{3}$ , только если  $H = h = R$ . Таким образом, пирамида  $PNML$  имеет наибольший объем, если треугольники  $PLN$  и  $PMN$  – прямоугольные и равнобедренные, лежащие во взаимно перпендикулярных плоскостях.

3) Поскольку  $MO \perp PLN$ , то  $MO \perp OL$ . Но  $PN \perp OL$  и поэтому по признаку перпендикулярности прямой и плоскости  $PMN \perp OL$ . Пусть  $K$  – середина  $MO$ . Проведем  $KT$  – среднюю линию треугольника  $OLM$ . Тогда  $KT \parallel OL$ . Значит,  $KT \perp PMN$  и поэтому  $KN$  – проекция  $NT$  на плоскость  $PMN$  и  $\angle TNK$  – угол между прямой  $NT$  и плоскостью  $PMN$ . Пусть  $\angle TNK = \alpha$ .

4) По свойству средней линии  $KT = 0,5OL = 0,5R$ . Так как треугольники  $LON$ ,  $LOM$ ,  $NOM$  равны по двум катетам, то треугольник  $MNL$  – правильный со стороной  $LN = ON\sqrt{2} = R\sqrt{2}$ .  $NT$  – высота треугольника  $MNL$ , значит,

$$NT = \frac{NL\sqrt{3}}{2} = \frac{R\sqrt{6}}{2}. \text{ Отсюда } \sin \alpha = \frac{KT}{NT} = \frac{R/2}{R\sqrt{6}/2} = \frac{1}{\sqrt{6}}.$$

Ответ:  $\frac{1}{\sqrt{6}}$ .

Баллы	Критерии оценки выполнения задания С4
4	<p>Приведена верная последовательность шагов решения: 1) установлено, что треугольники <math>PLN</math> и <math>PMN</math> – прямоугольные; 2) установлено, что в пирамиде <math>PMNL</math>, имеющей наибольший объем и вписанной в данную сферу, треугольники <math>PLN</math> и <math>PMN</math> – равнобедренные, лежащие во взаимно перпендикулярных плоскостях; 3) построен угол между прямой <math>NT</math> и плоскостью <math>PMN</math>; 4) вычислен синус угла между прямой <math>NT</math> и плоскостью <math>PMN</math>.</p> <p>Обоснованы ключевые моменты решения: а) вид пирамиды, имеющей наибольший объем, вписанной в данную сферу; б) построение угла между прямой <math>NT</math> и плоскостью <math>PMN</math>.</p> <p>Все преобразования и вычисления выполнены верно. Получен верный ответ.</p>
3	<p>Приведены все шаги решения 1) – 4).</p> <p>Приведены утверждения, составляющие ключевые моменты а) и б) решения: явно описан вид искомой пирамиды и построен искомый угол. Допустимо отсутствие обоснований ключевых моментов решения или неточности в обоснованиях<sup>1</sup>, но не грубые ошибки.</p> <p>Допустимы одна описка и/или негрубая ошибка в вычислениях, не влияющие на правильность хода решения. В результате этой описки и/или ошибки возможен неверный ответ.</p>
2	<p>Приведены шаги решения 2) – 4).</p> <p>Допустимо отсутствие утверждений, составляющих ключевые моменты а) и б) решения.</p> <p>Приведенные в решении обоснования не содержат грубых ошибок.</p> <p>Получена искомая величина синуса угла между прямой <math>NT</math> и плоскостью <math>PMN</math>.</p> <p>Допустимы описки и/или негрубые ошибки в вычислениях, не влияющие на правильность хода решения. В результате этого возможен неверный ответ.</p>
1	<p>Ход решения правильный, но решение не завершено: имеется шаг 2) решения, который описан словесно или ясно <u>отражен</u> и виден на чертеже (в соответствующих треугольниках обозначены углы, равные <math>90^0</math>, и равные стороны).</p> <p>Приведенные в решении обоснования и вычисления не содержат грубых ошибок.</p>
0	<p>Все случаи решения, которые не соответствуют вышеуказанным критериям выставления оценок 1 – 4 баллов.</p>

<sup>1</sup> Неточностью в обоснованиях является замена свойства на определение или на признак, или наоборот, а также неверные названия теорем или формул.



**C5**

Решите уравнение  $f(g(x)) + g(3 + f(x)) = 30$ , если известно, что

$$f(x) = 0,5x^4 - 4x + 5 \quad \text{и} \quad g(x) = \begin{cases} 25, & x \geq 4 \\ 2^x + \frac{9}{5-x}, & x < 4 \end{cases}.$$

**Решение:**

1) Так как  $f'(x) = (0,5x^4 - 4x + 5)' = 2x^3 - 4$ , то  $x = \sqrt[3]{2}$  - единственная критическая точка. Если  $x < \sqrt[3]{2}$ , то  $f'(x) < 0$ , а если  $x > \sqrt[3]{2}$ , то  $f'(x) > 0$ . Значит,  $x = \sqrt[3]{2}$  - точка минимума. Поэтому  $f_{\text{наим}} = f(\sqrt[3]{2}) = 5 - 3 \cdot \sqrt[3]{2}$ .

2) Так как  $5 - 3 \cdot \sqrt[3]{2} > 1 \Leftrightarrow 4 > 3 \cdot \sqrt[3]{2} \Leftrightarrow 64 > 27 \cdot 2$ , то  $f_{\text{наим}} > 1$ . Значит,  $3 + f(x) > 4$  для всех  $x$  и поэтому  $g(3 + f(x)) = 25$  для всех  $x$ . Получаем уравнение

$$f(g(x)) + 25 = 30 \Leftrightarrow \\ \Leftrightarrow f(g(x)) = 5 \Leftrightarrow 0,5(g(x))^4 - 4g(x) + 5 = 5 \Leftrightarrow \begin{cases} g(x) = 0 \\ g(x) = 2 \end{cases}.$$

Так как  $g(x) > 0$  для всех  $x$ , то уравнение  $g(x) = 0$  корней не имеет.

3) Решим уравнение  $g(x) = 2$ . Если  $x \geq 4$ , то  $g(x) = 25$  и корней нет. Если  $x < 4$ , то  $g(x) = 2^x + \frac{9}{5-x}$ . Так как  $g'(x) = \left(2^x + \frac{9}{5-x}\right)' = 2^x \ln 2 + \frac{9}{(5-x)^2} > 0$ , то на промежутке  $(-\infty; 4)$  функция  $g$  возрастает. Значит, уравнение  $g(x) = 2$  имеет не более одного корня, а один корень находится и проверяется подстановкой: если  $x = -1$ , то  $2^x + \frac{9}{5-x} = 0,5 + 1,5 = 2$ .

**Ответ:** -1.

**Замечания.**

1) В шаге 1) можно обойтись и без производной:  $0,5x^4 - 4x + 5 > 1 \Leftrightarrow \\ \Leftrightarrow x^4 - 8x + 8 > 0 \Leftrightarrow x^4 - 4x^2 + 4 + 4x^2 - 8x + 4 > 0 \Leftrightarrow (x^2 - 2)^2 + 4(x-1)^2 > 0$ , где последнее неравенство верно, так как  $(x^2 - 2)^2$  и  $4(x-1)^2$  не обращаются в ноль одновременно.

2) Аналогично, в шаге 3) проверку неравенства  $g'(x) > 0$  можно заменить ссылкой на то, что  $g(x)$  есть сумма двух возрастающих функций.

Баллы	Критерии оценки выполнения задания С5
4	<p>Приведена верная последовательность всех шагов решения:</p> <ol style="list-style-type: none"> <li>1) исследование функции <math>f</math>;</li> <li>2) сведение исходной задачи к уравнению <math>f(g(x)) = 5</math>, его решение; проверка того, что уравнение <math>g(x) = 0</math> не имеет корней;</li> <li>3) решение уравнения <math>g(x) = 2</math>.</li> </ol> <p>Обоснованы все моменты решения:</p> <ol style="list-style-type: none"> <li>а) нахождение <math>f_{\text{наим}}</math> обосновано исследованием знака производной;</li> <li>б) неравенство <math>f_{\text{наим}} &gt; 1</math> обосновано проверкой неравенства <math>5 - 3 \cdot \sqrt[3]{2} &gt; 1</math>;</li> <li>в) отсутствие корней уравнения <math>g(x) = 0</math> обосновано положительностью функции <math>g</math>;</li> <li>г) единственность корня <math>x = -1</math> обоснована проверкой возрастания функции <math>g</math> при <math>x &lt; 4</math>.</li> </ol> <p>Все преобразования и вычисления верны. Получен верный ответ.</p>
3	<p>Приведена верная последовательность всех шагов решения. В шаге 3) допустима лишь констатация возрастания <math>g</math> без ее проверки. Обоснованы ключевые моменты а), б).</p> <p>Допустима 1 описка и/или негрубая вычислительная ошибка в одном из шагов 2) или 3), в результате чего может быть получен неверный ответ.</p>
2	<p>Приведена в целом верная, но, возможно, неполная последовательность шагов решения. Выполнены верно шаги 1) и 2): задача сведена к решению уравнения <math>g(x) = 2</math>. Обоснован ключевой момент а). Допустимо, что неравенство <math>5 - 3 \cdot \sqrt[3]{2} &gt; 1</math> приведено без проверки.</p> <p>Допустимо, что дальнейшее исследование уравнения не завершено. Допустимы 1-2 негрубые ошибки или описки в вычислениях в шаге 3), не влияющие на правильность дальнейшего хода решения. В результате решение может быть не завершено.</p>
1	<p>Ход решения верный. Выполнен верно шаг 1): найдена точка минимума и наименьшее значение функции <math>f</math>. Обоснован ключевой момент а).</p> <p>Допустимо, что дальнейшее выполнение не завершено, а остальные ключевые моменты не обоснованы.</p>
0	<p>Все случаи решения, которые не соответствуют указанным выше критериям выставления оценок в 1, 2, 3, 4 балла.</p>

*Примечание*

Данное программное обеспечение можно скачать из интернета по указанным адресам:

Сайт программы	<a href="http://www.dessci.com/en/">http://www.dessci.com/en/</a>
Прямая ссылка (30 дней бесплатно)	<a href="http://www.dessci.com/en/dl/MathType52Setup.exe">http://www.dessci.com/en/dl/MathType52Setup.exe</a>